



EDUCACIÓN INTERCULTURAL

Difusión Museo de Cádiz

EJERCICIOS

CENTRO:
Nombre:
Apellidos:.....

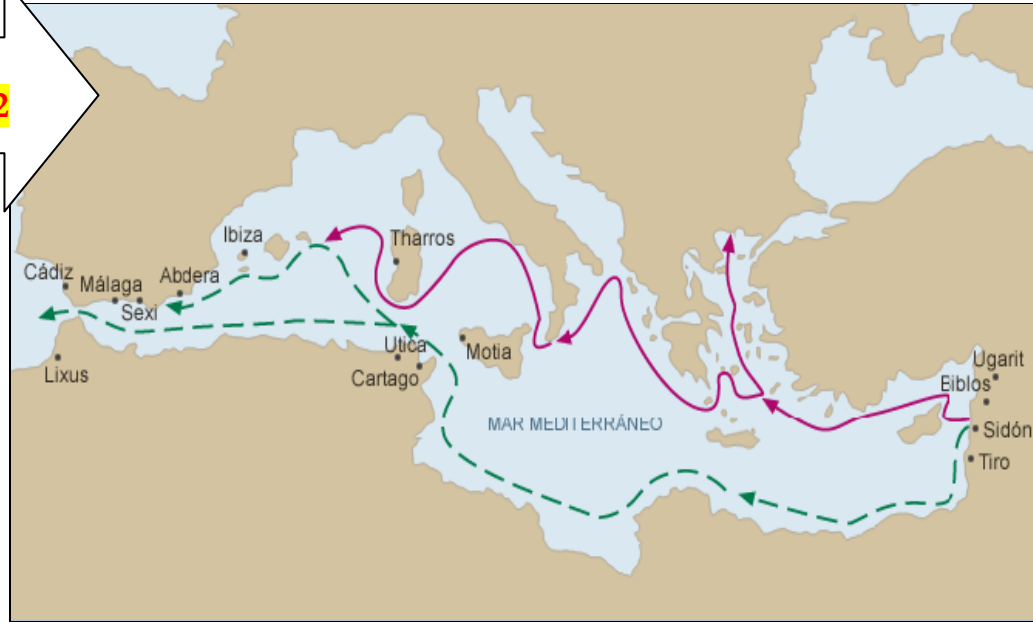
Curso:



- El mapa indica los **asentamientos fenicios**. ¿Puedes enumerarlos a continuación?

- 1.-
- 2.-
- 3.-
- 4.-
- 5.-
- 6.-
- 7.-
- 8.-
- 9.-

Pregunta nº 2



- ¿Cuales son las ciudades fenicias de:

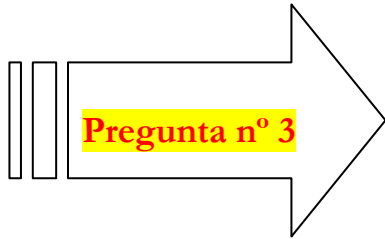
España:.....

Túnez:.....

Italia:.....

Marruecos:.....

Líbano:.....



- Es una cabeza de hombre negro encontrada en Cádiz entre restos fenicios. ¿De qué continente procede?

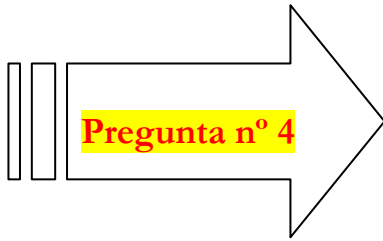
Responda:.....

- ¿Esta cabeza de subsahariano explica la existencia de movimientos migratorios en la época fenicia?

Responda:SI NO

- ¿Por qué se producían las Migraciones Humanas en la época Fenicia?

Responda:.....
.....
.....
.....



- Con esta moneda fenicia se pagaba en España, Marruecos, Túnez, Italia, Portugal, Líbano, etc.

1. ¿Por qué esta moneda era válida para todos estos países?.

-Respuesta:

2. ¿Qué moneda tiene la misma función y que se utiliza en toda la Unión Europea?

-Respuesta: